



Simulare județeană 2021-2022

Examenul național de bacalaureat

Proba E. d)

Geografie

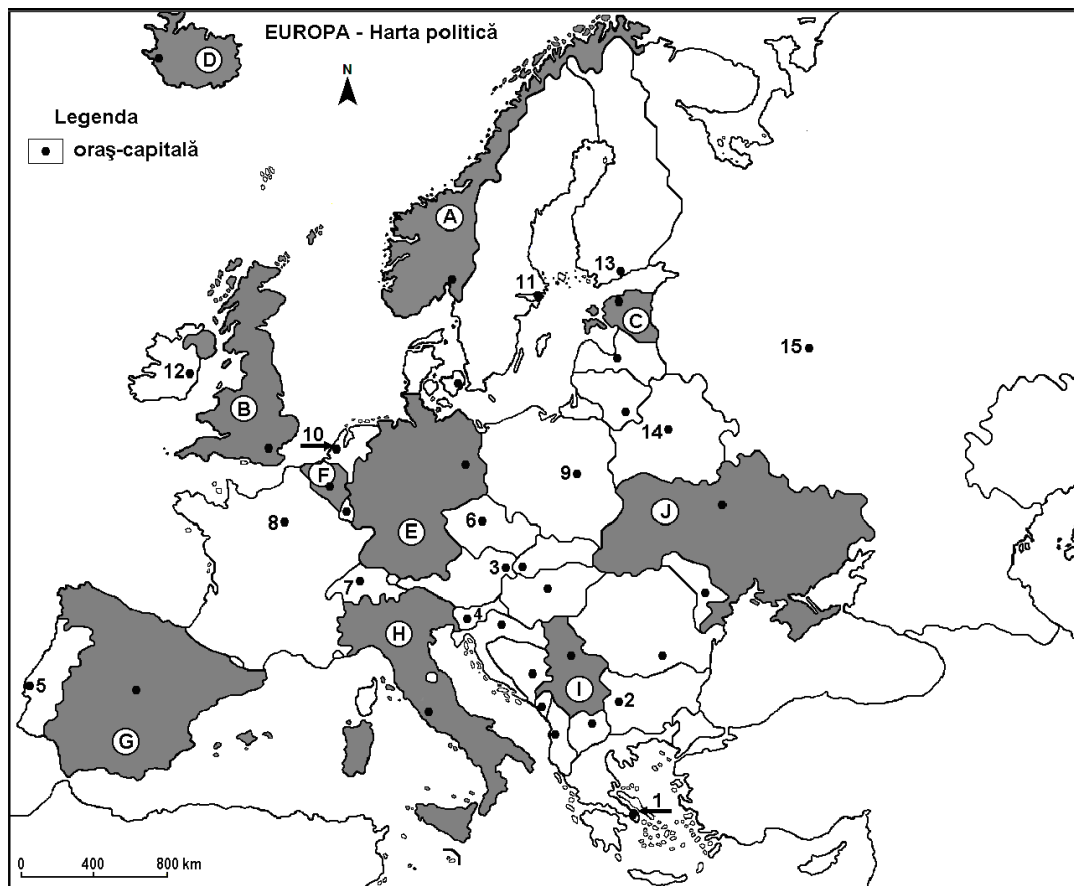
Test antrenament 1

Profilul umanist din filiera teoretică, profilul servicii din filiera tehnologică și toate profilurile și specializările din filiera vocațională, cu excepția profilului militar.

- Toate subiectele sunt obligatorii. Se acordă 10 puncte din oficiu.
- Timpul de lucru efectiv este de 3 ore.

SUBIECTUL I

(30 de puncte)



Harta de mai sus se referă la subiectul I A – E. Pe hartă sunt marcate state cu litere și orașe - capitală cu numere.

A. Precizați:

1. Litera care marchează, pe hartă, statul de unde izvorăște Dunărea;
2. Litera care marchează, pe hartă, statul pe teritoriul căruia se află podișul Meseta. **4 puncte**

B. Scrieți, pe foaia de examen, răspunsurile corecte care completează afirmațiile de mai jos:

1. În nordul statului marcat, pe hartă, cu litera A este climă ...
2. Capitala statului marcat, pe hartă, cu litera B este traversată de fluviul ...
3. Statul marcat, pe hartă, cu litera G este situat în Peninsula ... **6 puncte**

C. Scrieți, pe foaia de examen, litera corespunzătoare răspunsului corect pentru fiecare dintre



afirmațiile de mai jos:

1. Munții Pirinei se află în nordul-estul statului marcat, pe hartă, cu litera:
a. B b. D c. E d. G 2 puncte
2. Vulcani activi se găsesc pe teritoriului statului marcat, pe hartă, cu litera:
a. C b. D c. F d. J 2 puncte
3. Lacurile Ladoga și Onega se află pe teritoriul statului a cărui oraș-capitală este marcat, pe hartă, cu numărul:
a. 11 b. 13 c. 14 d. 15 2 puncte
4. La nord de statul marcat, pe hartă, cu litera E se află peninsula:
a. Balcanică b. Iberică c. Iutlanda d. Kola 2 puncte
5. Alpii Scandinaviei se găsesc în statul marcat, pe hartă, cu litera:
a. A b. B c. E d. H 2 puncte

D. Prezentați trei deosebiri între **clima** statului marcat, pe hartă, cu litera **A** și **clima** statului marcat, pe hartă, cu litera **G**.

Nota 1: Deosebirile se pot referi la oricare dintre următoarele elemente de **climă**: factori genetici, tip de climă, temperaturi medii anuale/vara/iarna, amplitudine termică, precipitații medii anuale/vara/iarna, vânturi cu frecvență ridicată.

Nota 2: Punctajul complet va fi acordat numai dacă deosebirile vor fi prezentate comparativ și nu separat. **6 puncte**

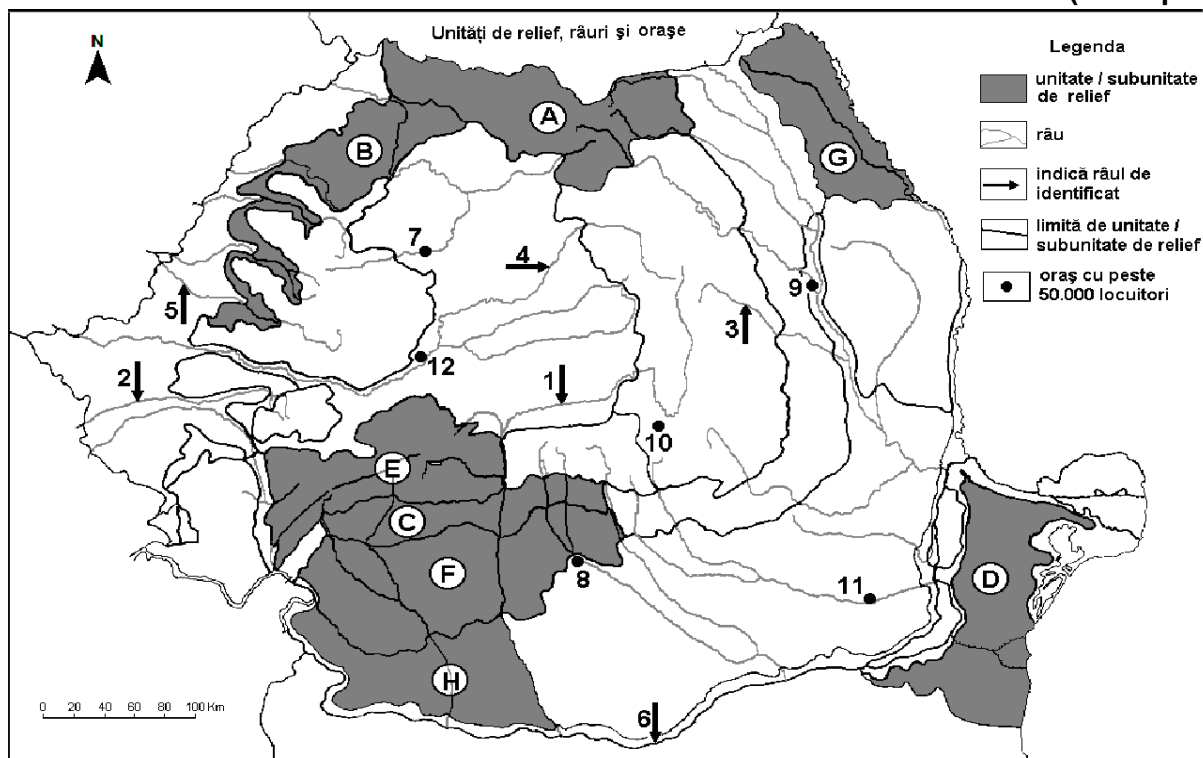
E. Precizați:

1. doi factori care determină lipsa viețuitoarelor în Marea Neagră, la adâncimi mai mari de 200 m;
2. doi factori care explică prezența lacurilor glaciare în nordul Europei.

4 puncte

SUBIECTUL al II-lea

(30 de puncte)



Harta de mai sus se referă la subiectul II A – D. Pe hartă sunt marcate unități de relief cu litere, râuri cu numere de la 1 la 6 și orașe cu numere de la 7 la 12.



A. Precizați:

1. numele unității de relief marcată, pe hartă cu litera **A**;
2. numele râului marcat, pe hartă, cu numărul 1.

4 puncte

B. Scrieți, pe foaia de examen, răspunsurile corecte care completează afirmațiile de mai jos:

1. Râul Bega este marcat, pe hartă, cu numărul ...
2. Unitatea de relief marcată, pe hartă, cu litera **H** se numește ...
3. Artera hidrografică marcată, pe hartă, cu numărul 6 se numește ...

6 puncte

C. Scrieți, pe foaia de examen, litera corespunzătoare răspunsului corect pentru fiecare dintre afirmațiile de mai jos:

1. Munți formați în orogeneza hercinică se află în unitatea de relief marcată, pe hartă, cu litera:
a. B b. C c. D d. E **2 puncte**
2. Râul marcat, pe hartă, cu numărul 3 se numește:
a. Bistrița b. Buzău c. Putna d. Trotuș **2 puncte**
3. În unitatea de relief marcată, pe hartă, cu litera **D** pătrund influențe climatice:
a. baltice b. oceanice c. pontice d. submediteraneene **2 puncte**
4. Relief vulcanic există în unitatea de relief marcată, pe hartă, cu litera:
a. A b. F c. G d. H **2 puncte**
5. Lacul glaciatic Bucura se găsește în unitatea de relief marcată, pe hartă, cu litera:
a. A b. C c. D d. E **2 puncte**

D. Prezentați trei deosebiri între relieful unității marcate, pe hartă, cu litera **E și relieful unității marcate, pe hartă, cu litera **F**.**

Nota 1: Deosebirile se pot referi la oricare dintre următoarele aspecte ale **reliefului**: mod de formare, tipuri de roci pe care s-a format relieful, altitudini, gradul de fragmentare, tipuri genetice de relief, orientarea culmilor și a văilor principale, dispunerea depresiunilor, alte aspecte specifice ale reliefului.

Nota 2: Punctajul complet va fi acordat numai dacă deosebirile vor fi prezentate comparativ și nu separat.

6 puncte

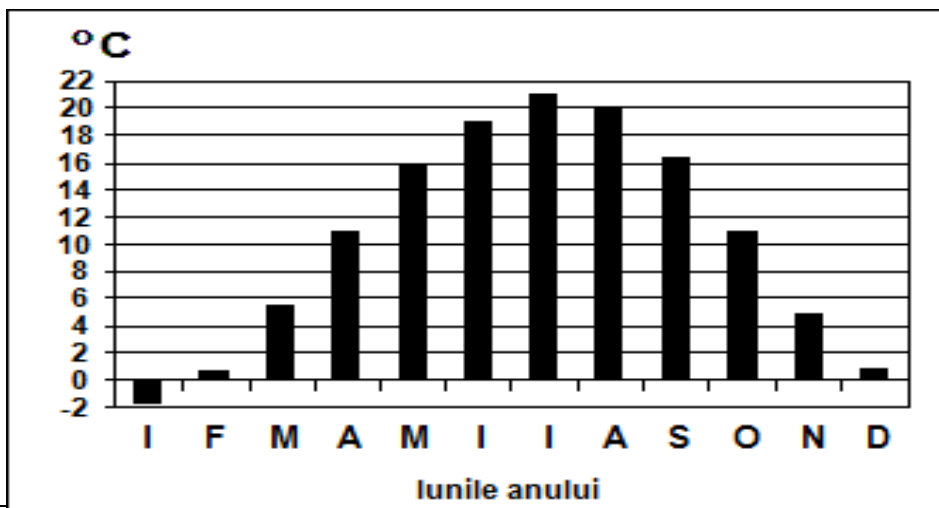
E. Prezentați doi factori care au determinat formarea Deltei Dunării.

4 puncte

SUBIECTUL al III-lea

(30 de puncte)

Reprezentarea grafică de mai jos se referă la subiectul **III A-B** și prezintă evoluția temperaturilor medii lunare în orașul Budapesta.





A. Precizați:

1. valoarea maximă a temperaturii medii lunare și luna în care se înregistrează;
2. valoarea minimă a temperaturii medii lunare și luna în care se înregistrează.

4 puncte

B. Precizați:

1. amplitudinea termică medie anuală;
2. tipul de climat în care este situat orașul;
3. numele unității majore de relief în care este situat orașul.

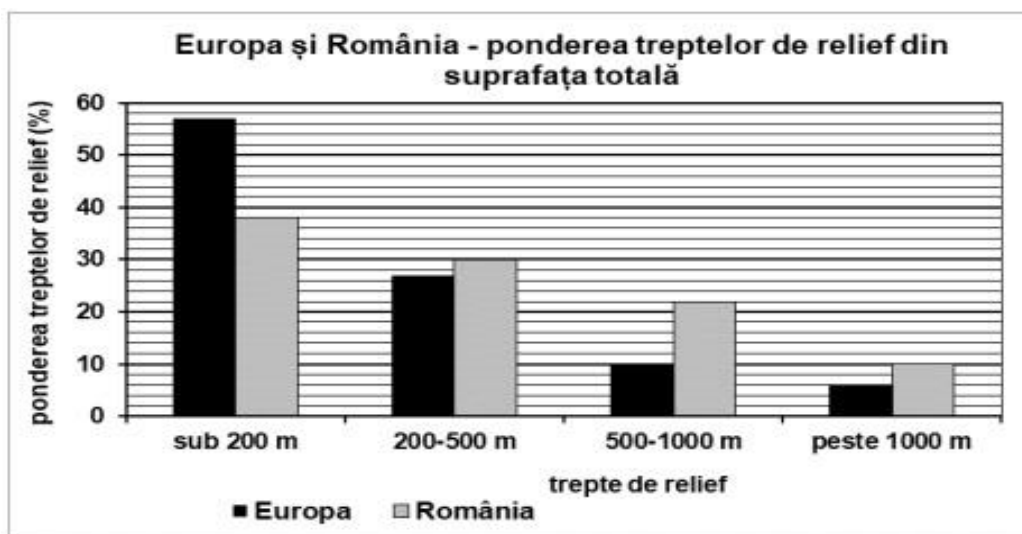
6 puncte

C. Pentru Peninsula Italică, precizați:

1. două unități de relief;
2. un vulcan;
3. două fluvii;
4. două mări care o delimitează;
5. două tipuri de climă;
6. un tip de vânt.

10 puncte

D. Reprezentarea grafică alăturată prezintă ponderea (%) treptelor de relief în Europa și în România (valorile au fost rotunjite).



Precizați:

1. treapta de relief cu cea mai mare suprafață la nivelul Europei și valoarea acesteia;
2. treapta de relief cu cea mai mică suprafață la nivelul României și valoarea acesteia;
3. ponderea (%) treptelor de relief cu altitudine sub 500 m în România.

6 puncte

E. Precizați numele strâmtoarei situate în sudul Peninsulei Iberice și unitățile acvatice (mări/oceane) între care face legătura.

4 puncte