



Examenul național de bacalaureat  
Proba E. d)  
Geografie

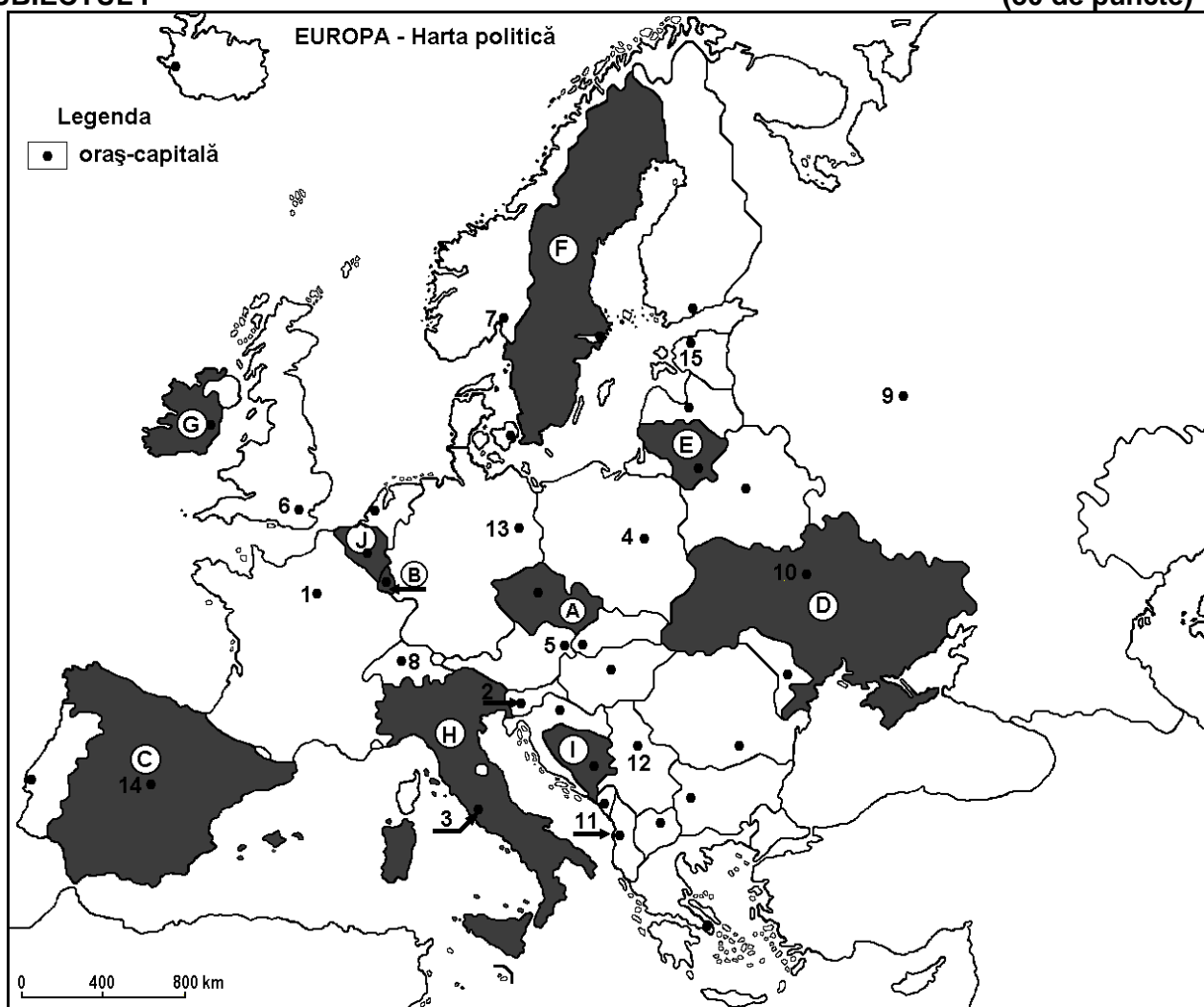
Test antrenament 2

*Profilul umanist din filiera teoretică, profilul servicii din filiera tehnologică și toate profilurile și specializările din filiera vocațională, cu excepția profilului militar.*

- Toate subiectele sunt obligatorii. Se acordă 10 puncte din oficiu.
- Timpul de lucru efectiv este de 3 ore.

SUBIECTUL I

(30 de puncte)



Harta de mai sus se referă la subiectul I A – E. Pe hartă sunt marcate state cu litere și orașe - capitală cu numere.

**A. Precizați:**

1. Litera care marchează, pe hartă, insula Irlanda;
2. Litera care marchează, pe hartă, statul pe teritoriul căruia se află Munții Apenini. **4 puncte**

**B. Scrieți, pe foaia de examen, răspunsurile corecte care completează afirmațiile de mai jos:**

1. Are ieșire la Marea Nordului statul marcat, pe hartă, cu litera ...
2. Prin orașul-capitală marcat, pe hartă, cu numărul 1 trece fluviul ...
3. Statul marcat, pe hartă, cu litera **D** are un climat ... **6 puncte**



**C.** Scrieți, pe foaia de examen, litera corespunzătoare răspunsului corect pentru fiecare dintre afirmațiile de mai jos:

1. Munții Penini sunt situați pe teritoriul statului al cărui oraș-capitală este marcată, pe hartă, cu cifra:  
a. 1                      b. 3                      c. 4                      d. 6                      **2 puncte**
2. Vulcanismul activ este prezent în Europa pe teritoriul statului marcat, pe hartă, cu litera:  
a. A                      b. C                      c. H                      d. I                      **2 puncte**
3. Precipitații bogate, între 1.000 și 2.000 mm/an, cad pe teritoriul statului marcat, pe hartă, cu litera:  
a. A                      b. D                      c. G                      d. H                      **2 puncte**
4. Fluviul Volga traversează statul al cărui oraș-capitală este marcată, pe hartă, cu cifra:  
a. 4                      b. 5                      c. 9                      d. 10                      **2 puncte**
5. Câmpia Padului se găsește în statul marcat, pe hartă, cu litera:  
a. A                      b. B                      c. E                      d. H                      **2 puncte**

**D.** Prezentați trei deosebiri între **clima** statului marcat, pe hartă, cu litera **F** și **clima** statului marcat, pe hartă, cu litera **H**.

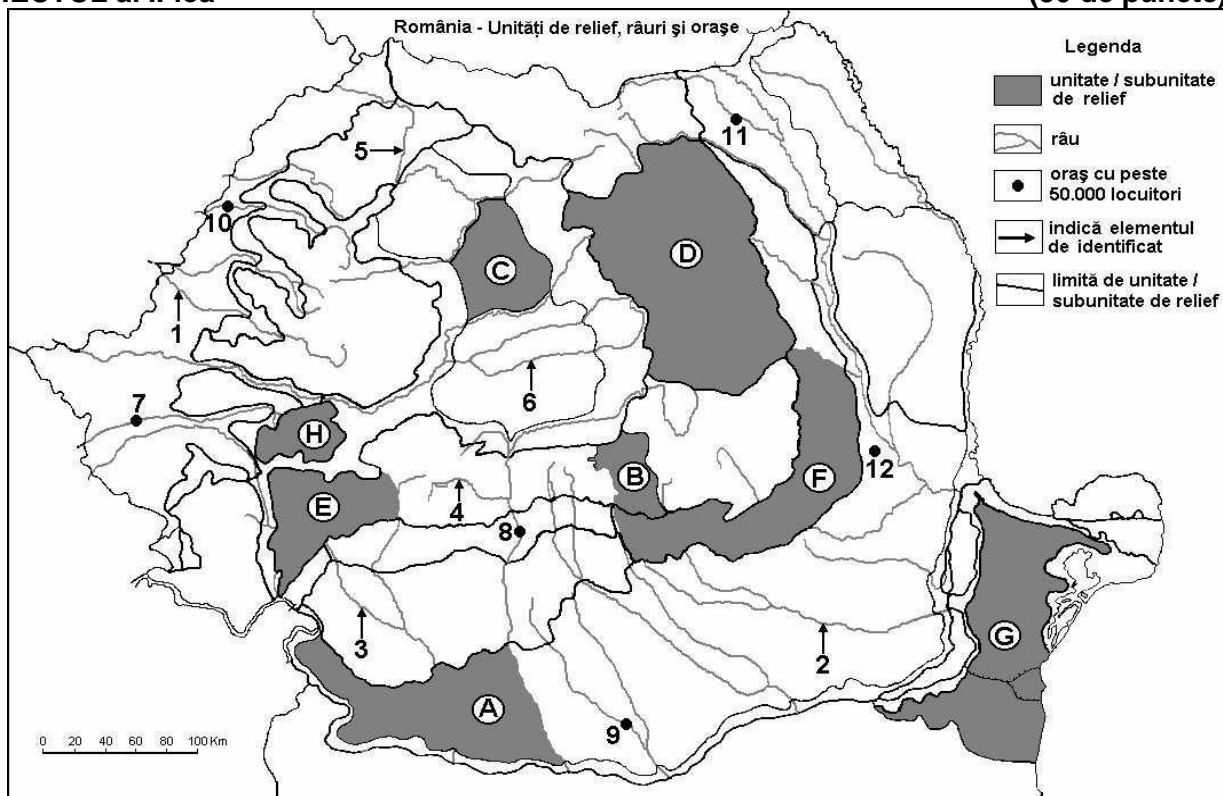
**Nota 1:** Deosebirile se pot referi la oricare dintre următoarele elemente de **climă**: factori genetici, tip de climă, temperaturi medii anuale/vara/iarnă, amplitudine termică, precipitații medii anuale/vara/iarnă, vânturi cu frecvență ridicată.

**Nota 2:** Punctajul complet va fi acordat numai dacă deosebirile vor fi prezentate comparativ și nu separat. **6 puncte**

**E.** Prezentați două cauze care să explice amplitudinea termică anuală redusă din climatul temperat-oceanic. **4 puncte**

#### SUBIECTUL al II-lea

(30 de puncte)



Harta de mai sus se referă la subiectul II A – D. Pe hartă sunt marcate unități de relief cu litere, râuri cu numere de la 1 la 6 și orașe cu numere de la 7 la 12.

**A.** Precizați:

1. numele unității de relief marcată, pe hartă cu litera **F**;
2. numele râului marcat, pe hartă, cu numărul **2**.

**4 puncte**



**B.** Scrieți, pe foaia de examen, răspunsurile corecte care completează afirmațiile de mai jos:

1. Râul Crișul Alb este marcat, pe hartă, cu numărul ...
2. Unitatea de relief marcată, pe hartă, cu litera **H** se numește ...
3. Râul care trece prin orașul marcat, pe hartă, cu numărul **8** se numește ...

**6 puncte**

**C.** Scrieți, pe foaia de examen, litera corespunzătoare răspunsului corect pentru fiecare dintre afirmațiile de mai jos:

1. Relief vulcanic se găsește în unitatea de relief marcată, pe hartă, cu litera:  
a. B                      b. C                      c. D                      d. E                      **2 puncte**
2. Râul marcat, pe hartă, cu numărul **6** se numește:  
a. Bistrița              b. Târnava Mare      c. Buzău              d. Trotuș              **2 puncte**
3. În unitatea de relief marcată, pe hartă, cu litera **G** pătrund influențe climatice:  
a. baltice              b. submediteraneene      c. oceanice              d. pontice              **2 puncte**
4. Relief glaciar există în unitatea de relief marcată, pe hartă, cu litera:  
a. A                      b. E                      c. G                      d. H                      **2 puncte**
5. Lacul Sf. Ana se găsește în unitatea de relief marcată, pe hartă, cu litera:  
a. A                      b. C                      c. D                      d. E                      **2 puncte**

**D.** Prezentați trei deosebiri între relieful unității marcate, pe hartă, cu litera **B** și relieful unității marcate, pe hartă, cu litera **C**.

**Nota 1:** Deosebirile se pot referi la oricare dintre următoarele aspecte ale reliefului: mod de formare, tipuri de roci pe care s-a format relieful, altitudini, gradul de fragmentare, tipuri genetice de relief, orientarea culmilor și a văilor principale, dispunerea depresiunilor, alte aspecte specifice ale reliefului.

**Nota 2:** Punctajul complet va fi acordat numai dacă deosebirile vor fi prezentate comparativ și nu separat.

**6 puncte**

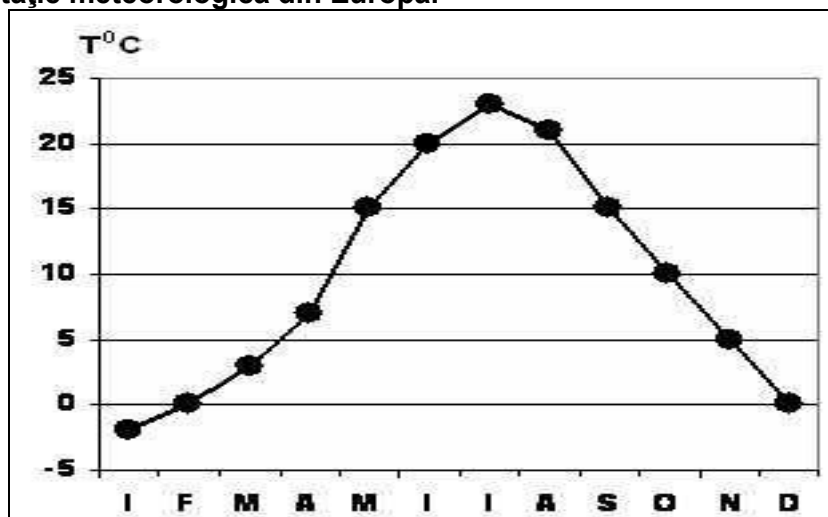
**E.** Prezentați două argumente prin care demonstrați importanța economică a Dunării pentru România.

**4 puncte**

### SUBIECTUL al III-lea

**(30 de puncte)**

Reprezentarea grafică de mai jos se referă la subiectul III A - B și prezintă evoluția temperaturilor medii lunare la o stație meteorologică din Europa.



**A.** Precizați:

1. două luni în care temperatura medie este de 0°C;
2. două luni în care temperatura medie este de 15°C.

**4 puncte**



**B. Precizați:**

1. temperatura maximă și luna în care se înregistrează;
2. temperatura minimă și luna în care se înregistrează;
3. tipul de climat în care este situată stația meteorologică.

**6 puncte**

**C. Pentru Peninsula Iberică, precizați:**

1. patru unități de relief;
2. trei fluvii;
3. numele unei mări/ocean care o delimitează;
4. două tipuri de climă.

**10 puncte**

**D. Următorul tabel se referă la subiectul III D.**

Țara	Temperatura aerului în ianuarie (T°C)	Temperatura aerului în iulie (T°C)	Precipitații medii (mm/an)
<b>Ucraina</b>	<b>-7,1</b>	<b>23,8</b>	<b>520</b>
<b>Ungaria</b>	<b>-5,1</b>	<b>21,2</b>	<b>700</b>

**Precizați:**

1. amplitudinea termică anuală pentru Ucraina, respectiv pentru Ungaria;
2. influențele climatice dominante pentru fiecare din cele două țări.

**6 puncte**

**E. Prezentați două cauze ale existenței circurilor și lacurilor glaciare în Alpii Scandinaviei.**

**4 puncte**