



**EVALUAREA COMPETENȚELOR FUNDAMENTALE
LA FINALUL CLASEI a II-a
2017**

Test 1

MATEMATICĂ

Județul / sectorul.....

Localitatea.....

Școala.....

Numele și prenumele elevei / elevului.....

.....

Clasa a II-a.....

Băiat ☐

Fată ☐

Учні II-го класу пішли в парк радуватися теплому весняному повітрі і дивитися на багатокольорові квіти і комахи. Незабаром, вони почали лічити комахи, які побачили. Число комах написано в нижчеподаній таблиці. Вчителька сказала учням що між квітами є заховані декілька запитань. Так що учні почали гру...

			
300 метеликів	169 сонечків	89 бджілок	54 коників

1. Скільки метеликів і коників разом полічили учні в парку?
Обведи букву, яка показує правильну відповідь.

- a) 246
- b) 354
- c) 389
- d) 469

Nu se completează de către elev
COD

1.

2. Ана має порівнювати число метеликів з числом бджілок.
Напиши і ти, один із знаків <, =, >, так щоб відношення було правильним.

300 89

Nu se completează de către elev
COD

2.

3. На скільки більше є число сонечків ніж число бджілок?
Обведи букву, яка показує правильну відповідь.

- a) 70
b) 80
c) 90
d) 180


Nu se completează de către elev
COD

10

4. Дан помічає декілька бджілок, які летять, як в поданому зображенні. Скільки бджілок разом в поданому зображенні?

Знайди результат вживаючи повторне додавання з однаковими доданками.

Напиши внизу розв'язання задачі.

[illegible]

Nu se completează de către elev
COD

11

На скільки разів менше живе метелик другого виду?

Напиши внизу розв'язання задачі.

[illegible]

5.


11

Обведи букву, яка показує правильну відповідь.

Page 10

- 6.**

7. Мара полічила 6 бджілок, а Андра у 4 рази більше.
Каталін має обчислити скільки бджілок полічила Андра.
Напиши внизу розв'язання задачі.






Nu se completează de către elev
COD

7.

8. Діти наліпили на картончики зображення з комахами, яких бачили в парку.

З якою геометричною фігурою подібний картончик на якому наліплена бджілка?

Обведи букву, яка показує правильну відповідь.



- a) коло
- b) прямокутник
- c) квадрат
- d) трикутник

Nu se completează de către elev
COD

8.

9. Флорін має обчислити на скільки більше число сонечків ніж число коників. Він написав наступну вправу: $169 - 54 = 115$.

Перевір ти, через протилежну дію, чи правильно обчислив Флорін.
Напиши внизу перевірку вправи.

A blank sheet of graph paper featuring a uniform grid of small squares. The grid consists of 20 columns and 10 rows, providing a structured space for drawing or writing.

Nu se completează de către elev
COD

1

10. Андрей зробив картину використовуючи геометричні фігури.

Скільки прямокутників і скільки колів використовував для здійснення дерев?

Обведи букву, яка показує правильну відповідь.



- а) 2 прямокутники і 2 кола;
б) 3 прямокутники і 3 кола;
в) 4 прямокутники і 5 колів;
г) 5 прямокутників і 5 колів.

Nu se completează de către elev
COD

1

11. Лівіу мав полічити двійками (від два на два) коники, які побачив в парку.
Допоможи продовжити лічення.
Напиши і ти ці числа.

44

48

54

Nu se completează de către elev
COD

11.

12. На кінці, хлопчики сіли по 5 в 3 ряди. Їх досить, щоб танцювали з 15 дівчатками, так щоб створили пари?

Поясни внизу твою відповідь.

Так, тому що _____

Ні, тому що _____

Nu se completează de către elev
COD

12.

FELICITĂRI, AI AJUNS LA SFÂRȘITUL TESTULUI!
MULȚUMIM PENTRU PARTICIPARE!