



**EVALUAREA COMPETENȚELOR FUNDAMENTALE
LA FINALUL CLASEI a II-a
2014**

Test 2

MATEMATICĂ

Județul / sectorul.....

Localitatea.....

Școala.....

Numele și prenumele elevei / elevului.....

.....

Clasa a II-a.....

Băiat ☐

Fată ☐

Jelena, Ivana, Vlad i Andrija sakupljaju markice.
Do sada, svako dijete ima slijedeći broj markica, tako:

Jelena



138 markice

Ivana



82 markice

Vlad



246 markice

Andrija



83 markice

1. Koji je redoslijed po većem broju djeca, polazeći od broja markica iz svačijeg albuma?
Zaokruži odgovarajuće slovo za točan odgovor.

- a) Vlad, Jelena, Ivana, Andrija
- b) Ivana, Andrija, Jelena, Vlad
- c) Andrija, Ivana, Jelana, Vlad
- d) Ivana, Andrija, Vlad, Jelena

Nu se completează de către elev
COD

1.

2. Ivana kaže da broj svojih markica je veći od Andrijinog broja markica.

Napiši, na zadatom mjestu, odgovarajući znak (<, > ili =) između Ivaninog broja markica i Andrijinog broja markica, da bi pokazao tko ima pravo.

82 83

Nu se completează de către elev
COD

2.

3. Koji od donjih računa mora biti izračunan, da bi saznali, koliko markice ukupno su sakupili Vlad i Jelena?

Zaokruži odgovarajuće slovo za točan odgovor.

- a) $83 + 138$
- b) $246 + 138$
- c) $138 - 83$
- d) $246 - 138$

Nu se completează de către elev
COD

3.

4. Koliko markice mora sakupljati Ivana da bi imala 100 markice?

Zaokruži odgovarajuće slovo za točan odgovor.

- a) 2 markice
- b) 18 markice
- c) 28 markice
- d) 230 markice

Nu se completează de către elev
COD

4.

5. Djeca su sakupila markice tijekom dvije nedjelje i četiri dana. Koliko dana su sakupili markice?

Zaokruži odgovarajuće slovo za točan odgovor.

- a) 11 dana
- b) 14 dana
- c) 16 dana
- d) 18 dana

Nu se completează de către elev
COD

5.

6. Ivana je stavljala markice u album, kao u donjoj slici:
Promatraj primjer i dopuni rečenicu ispod slike.



Slijedeća markica iz slike mora biti markica sa.....

Nu se completează de către elev
 COD

6.

7. Koji geometrijski lik koristiš da nacrtáš slijedeću markicu?
Zaokruži odgovarajuće slovo za točan odgovor.



- a) jedan krug
- b) jedan kvadrat
- c) jedan trokut
- d) jedan pravokut

Nu se completează de către elev
 COD

7.




8. Koja djeca su sakupila više od 150 markica?
Zaokruži odgovarajuće slovo za točan odgovor.

- a) Jelena
- b) Vlad
- c) Ivana
- d) Andrija

Nu se completează de către elev
COD

8.	<input type="text"/>
----	----------------------

9. U tabeli napisan je broj Jelenih markica. Brojevi koji nedostaju iz tabele predstavljaju njezine najdraže markice. Koje je, uvećanjem, broj ovih markica?
Zaokruži odgovarajuće slovo za točan odgovor.

61		63	64
65	66	67	68
	70		72
73	74	75	76

- a) 62, 69 i 71
- b) 69, 71 i 62
- c) 71, 69 i 62
- d) 62, 71 i 69

Nu se completează de către elev
COD

9.	<input type="text"/>
----	----------------------

10. Koliko markice mora još sakupljati Ivana kako bi imala isti broj markica kao Vlad?
Napiši, na zadanom prostoru, odgovor.

[illegible]

10.

11. Koji je Vladov i Ivanin ukupni broj markica?
Napiši, na zadatom prostoru, odgovor.

[illegible]

11.	
-----	--

12. Jelena ima 14 leja i ide da kupi markice. Cijena markica je napisana u slijedećoj tablici:

Markica sa cvijećem	6 leja
Markica sa leptirima	8 leja
Markica sa životinjama	7 leja
Ređa markica	9 leja

Može Jelena kupiti, od onih 14 leja, jednu markicu sa leptirima i jednu sa životinjama?
Objasni tvoj odgovor, na zadanom prostoru.

[illegible]

Da, zato što _____

Ne, zato što _____

Nu se completează de către elev
COD

12.	
-----	--

FELICITĂRI, AI AJUNS LA SFÂRȘITUL TESTULUI!

MULȚUMIM PENTRU PARTICIPARE!